




COLÉGIO ACADEMOS FUNDAMENTAL I



DISCIPLINA: _____

ALUNO: _____

SÉRIE: 2º ano

TURNO: Manhã

DATA: 30 / 03 / 2020

PROFESSORA: Martha Militão _____

**A Via Láctea é a galáxia da qual o Sistema Solar faz parte.
Vista da Terra, aparece como uma faixa brilhante.**

Os cometas são corpos pequenos e irregulares, que tem como principal característica a cauda, um rastro de poeira e gases que o cometa vai deixando pelo caminho.

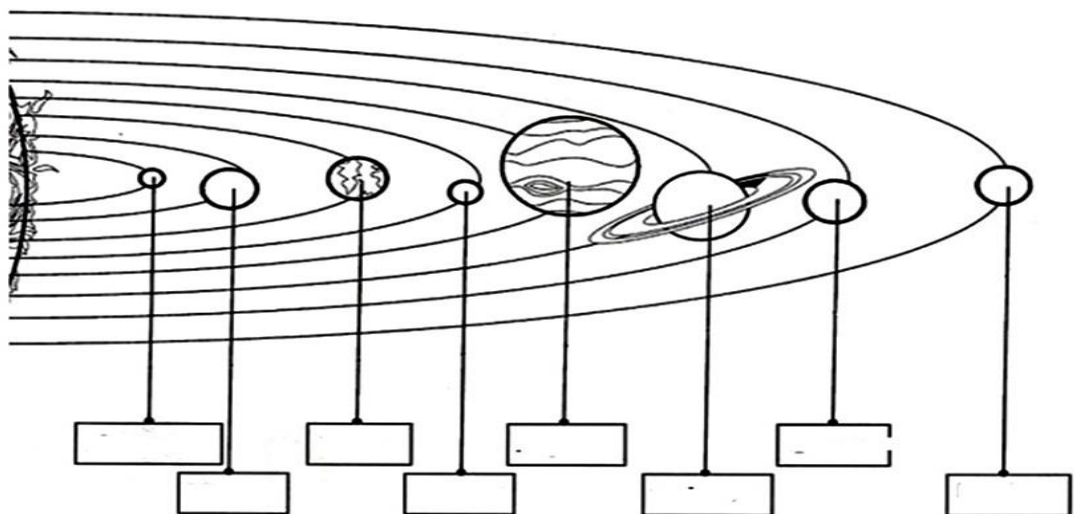
Nosso Sistema Solar é formado pelo sol e seus oito planetas.

01. Sobre o Sistema Solar, responda:

a) O que é a Via Láctea?

b) Qual a principal característica de um cometa?

c) Observe a imagem abaixo e escreva o nome de cada planeta do Sistema solar.
Pinte a imagem.



02. Observe as figuras abaixo, em seguida, pinte o que for ser vivo **SER VIVO** e faça um **X** no que **NÃO TEM VIDA**.



ÁGUA



CAVALO




PLANTA



CRIANÇAS



CACHORRO




COQUEIRO



AÇÚCAR



ÁRVORE



PEDRA

03. Observe as duas imagens e escreva **AMBIENTE AQUÁTICO** ou **AMBIENTE TERRESTRE**.



04. Complete as frases com os recursos naturais.

Ar – Água – Sol - Solo

- O _____ é nossa fonte de luz e calor.
- O _____ é essencial para respiração.
- Precisamos beber bastante _____ para vivermos.
- É no _____ que construímos nossas casas.

05. Sabemos a importância de manter o Meio Ambiente limpo e que não devemos poluir o mesmo. Observe as imagens e pinte de **verde** a cena que demonstra conservação do meio ambiente e de **vermelho** a forma de poluir o mesmo.

