

ALUNO: _____

SÉRIE: 2º ano

TURNO: Manhã

DATA: 07 / 05 / 2020

PROFESSORA: Martha Militão

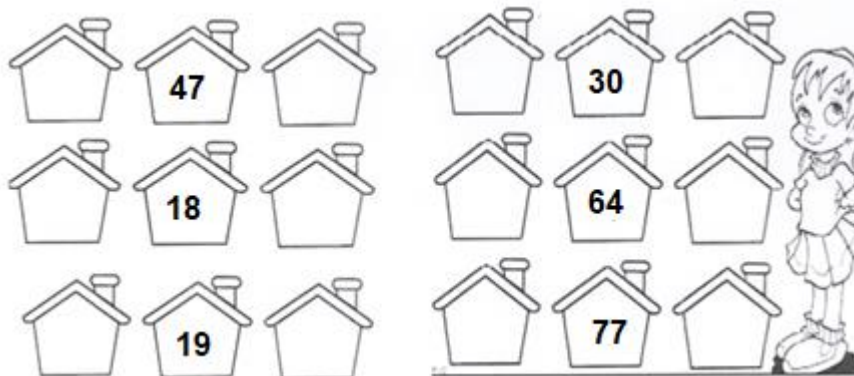
DISCIPLINA: Matemática

01. Complete a sequência numérica, pinte os números pares de amarelo e os números ímpares de vermelho.

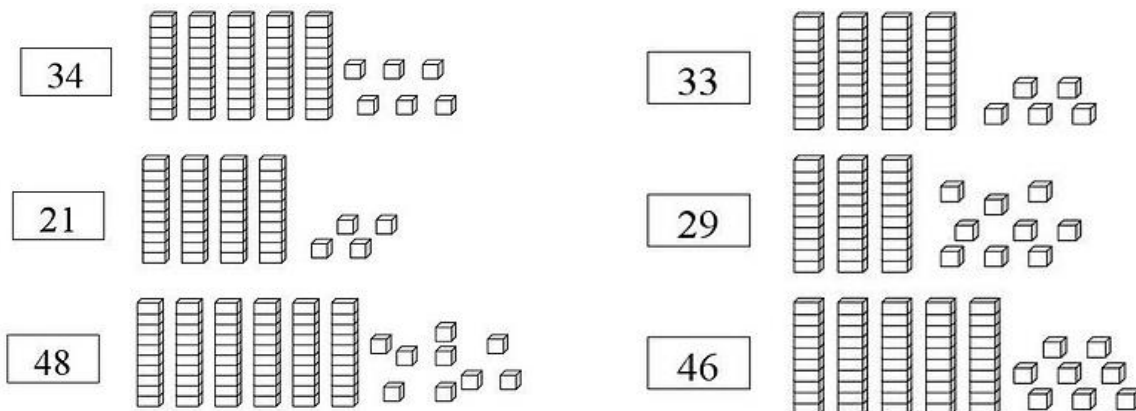


1	→		→		→		→	
	→		→		→		→	
	→		→		→		→	
	→		→		→		→	
	→		→		→		→	
	→		→		→		→	30


02. Complete com o antecessor e o sucessor dos números abaixo.










03. Pinte as peças do Material Dourado de acordo com o número indicado.



04. Observe os desenhos do quadro e registre os resultados. Siga o exemplo.



MARCOS PAR	ALEXANDRE IMPAR	TOTAL	GANHADOR
		2	MARCOS
			
			
			

05. Continue a marcar a posição de cada criança na fila, usando os números ordinais e faça o que se pede.

- Circule a criança que está na décima posição.
- Pinte o terceiro colocado de azul.
- Marque com um **X** a criança da quinta posição.
- Pinte de verde a criança que está na oitava posição.

