



ALUNO: _____


SÉRIE: 3º ano TURNO: MANHÃ

DATA: 08 / 05 / 2020

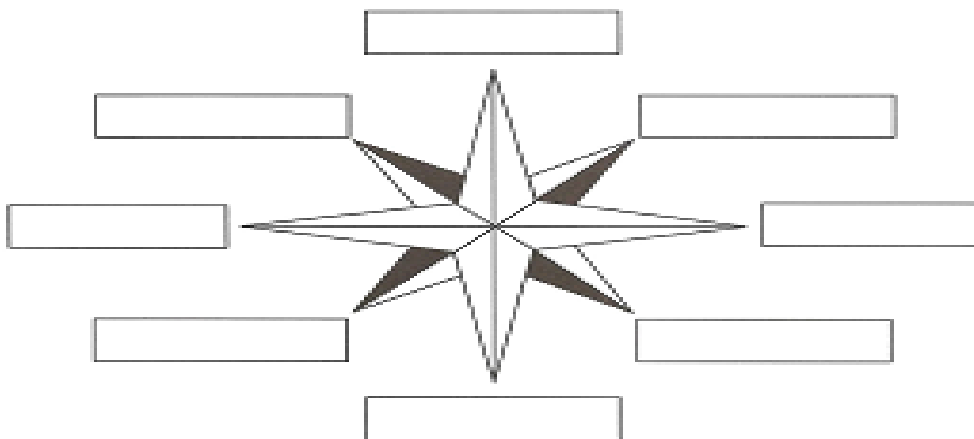
PROFESSORA: VERIDIANA

DISCIPLINA: GEOGRAFIA - REVISÃO

1. Pinte os números ímpares e descubra como é chamado o local onde o Sol nasce.



2. Escreva o nome dos pontos cardeais e colaterais.



3. Complete as frases com as palavras do quadro.

MAQUETE - PLANTAS

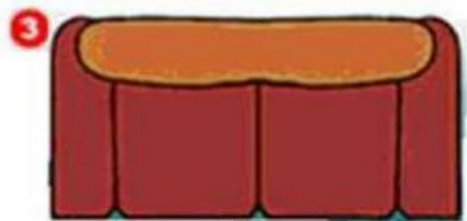
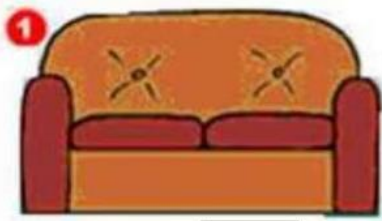
- a) A _____ é uma representação em miniatura de uma construção ou de um lugar.
 b) As _____ são utilizadas para representar espaços de pequenas dimensões.

4. Um objeto pode ser observado de diferentes pontos de vista. Veja a legenda e identifique o sofá de acordo com o ponto de vista que foi observado.

VO – Visão oblíqua

VF – Visão frontal

VV – Visão vertical



5. Observe o mapa da página 122 do livro de geografia e responda.

a) Qual o título do mapa?

b) O que nos informa a legenda?

Mostre que você é capaz!