




ALUNO: _____

SÉRIE: 3º ano TURNO: MANHÃ

DATA: 18 / 06 / 2020

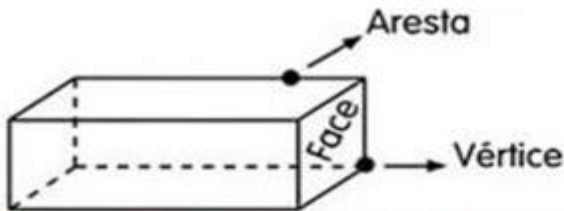
PROFESSORA: VERIDIANA

DISCIPLINA: MATEMÁTICA



Poliedros são os sólidos que possuem todas as partes planas.

1. Observe os poliedros e complete.



Nome: _____
 Quantas faces? _____
 Quantas arestas? _____
 Quantos vértices? _____

Nome: _____
 Quantas faces? _____
 Quantas arestas? _____
 Quantos vértices? _____

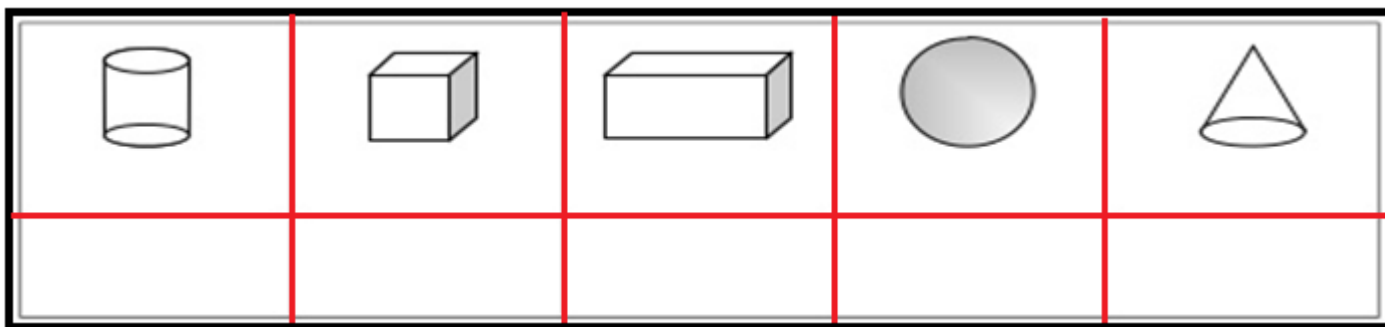
Nome: _____
 Quantas faces? _____
 Quantas arestas? _____
 Quantos vértices? _____

Nome: _____
 Quantas faces? _____
 Quantas arestas? _____
 Quantos vértices? _____

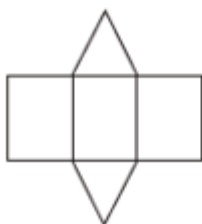
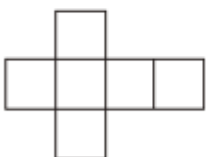
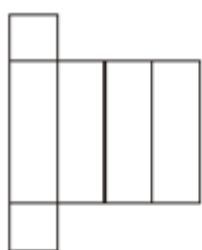
Nome: _____
 Quantas faces? _____
 Quantas arestas? _____
 Quantos vértices? _____



2. Escreva o nome dos sólidos geométricos.



3. Quais figuras foram desmontadas? Escreva o nome de cada uma delas.



Mostre que você é capaz!