














Colégio: _____














Infantil V – Professora: _____ Turno: Manhã/ Tarde Data: ____/____/____

Aluno(a): _____

ATIVIDADE DE MATEMÁTICA

- DESCUBRA OS NÚMEROS QUE ESTÃO NO LUGAR DOS SÍMBOLOS

1	2	3		5			8		
11			14		16	17		19	20
21		23		25	26		28		30

	<input type="text"/>		<input type="text"/>		<input type="text"/>		<input type="text"/>
	<input type="text"/>		<input type="text"/>		<input type="text"/>		<input type="text"/>
	<input type="text"/>		<input type="text"/>		<input type="text"/>		<input type="text"/>
	<input type="text"/>						